

PRUEBAS PARA LA OBTENCIÓN DE TÍTULOS DE TÉCNICO Y TÉCNICO SUPERIOR

Convocatoria de 2021-2022

RESOLUCIÓN de 3 de diciembre de 2021 de la Consejería de Educación, Juventud y Deporte

DATOS DEL ASPIRANTE			CALIFICACIÓN
APELLIDOS:			
Nombre:	D.N.I.:	Fecha:	


Código del ciclo: AFD201	Denominación completa del ciclo formativo: CONDUCCIÓN DE ACTIVIDADES FÍSICO-DEPORTIVAS EN EL MEDIO NATURAL
Clave del módulo: 03	Denominación completa del módulo profesional: CONDUCCIÓN DE GRUPOS A CABALLO Y CUIDADOS EQUINOS BÁSICOS

INSTRUCCIONES GENERALES PARA LA REALIZACIÓN DE LA PRUEBA
<ul style="list-style-type: none"> - Antes de contestar la pregunta, entiende bien lo que te preguntan. - Intenta que las respuestas se alejen lo menos posible de la pregunta. - La ortografía y la claridad en las contestaciones serán valoradas en su calificación.

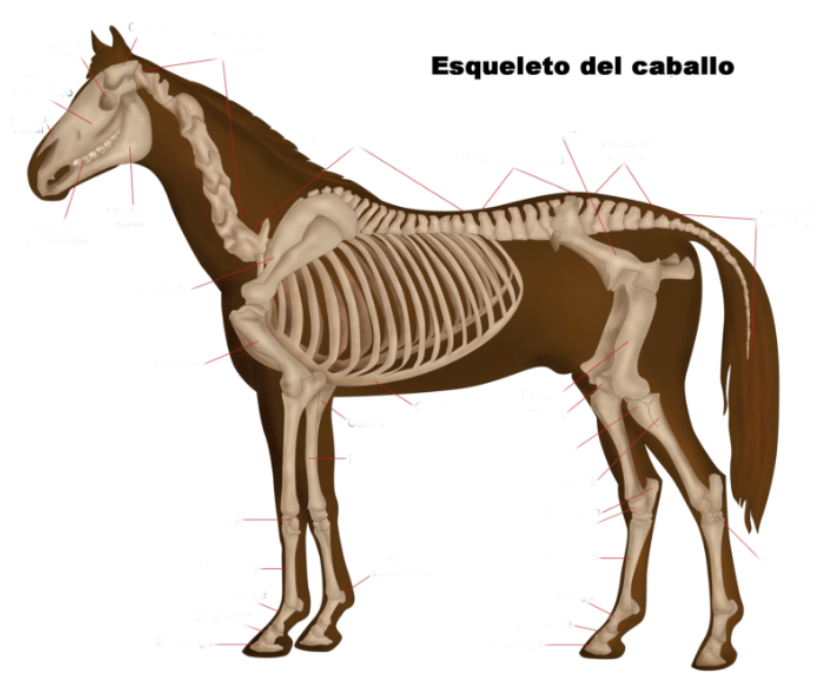
CRITERIOS DE CALIFICACIÓN Y VALORACIÓN
<p>El examen consta de 3 apartados bien diferenciados:</p> <ul style="list-style-type: none"> ● conceptos teóricos: 10 puntos ● manejo: 10 puntos ● monta: 10 puntos <p>La nota final del módulo se calcula haciendo la media de los 3 apartados. Si un apartado es calificado con un 0 no puede aprobarse el examen.</p> <p>Las respuestas se valorarán total o parcialmente según si se responde de manera completa o incompleta. Pero, en ningún caso, puede haber una respuesta incongruente con lo correcto, en cuyo caso no sumará ningún punto.</p>

APARTADO DE CONCEPTOS TEÓRICOS (10 puntos)

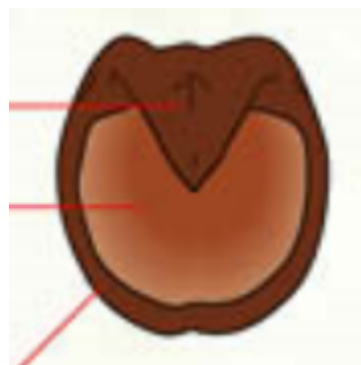
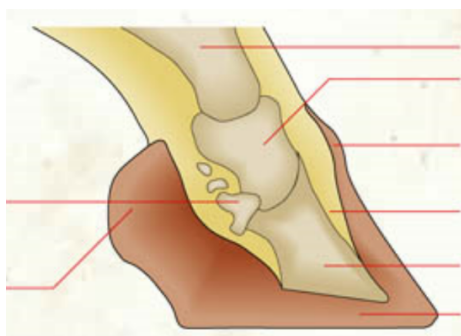
1. Localiza en la figura las siguientes partes del caballo: maslo, hombro, antebrazo, corvejón y cuartilla.




2. Localiza en la figura las siguientes partes del caballo: húmero, vértebras caudales, metatarso, metacarpo y vértebras cervicales.



3. Localiza en la figura las siguientes partes del casco: pulpejo, ranilla, muralla, talón y falangeta.

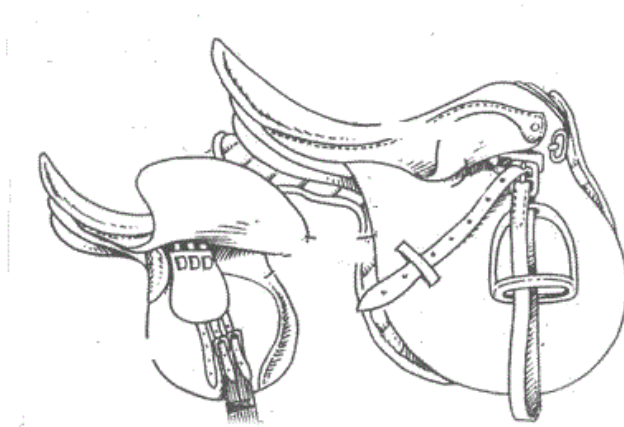


4. Localiza en la figura las siguientes partes de la cabezada: muserola, ahogadero, filete, testera y frontalera.



5. Explica las características más importantes de la capa Appaloosa.

6. Localiza en la figura las siguientes partes de la montura: sudadero, bastes, acción del estribo, borren delantero y latiguillos.



7. Explica las características morfológicas de un caballo de Pura Raza Árabe.

8. Enumera las cuatro categorías de ponis, indicando la alzada de cada una.

9. Indica los signos de alerta en los cólicos del caballo.

10. Nombra los siguientes aplomos:



APARTADO DE MANEJO (10 puntos)

1. En este apartado tendrás que describir de la manera más precisa el proceso para vestir a un caballo dividiéndolo en 4 apartados:
 - a. Limpieza de cascos
 - b. Vendaje de pies y manos
 - c. Colocación de la silla
 - d. Colocación de la cabezada de trabajo

APARTADO DE MONTA (10 puntos)

1. Indica las normas de circulación en pista a tener en cuenta cuando hay trabajando varios caballos a la vez.
2. Explica cómo se coordinan las diagonales del caballo en el trote levantado cuando vas a mano derecha.

3. Describe los tiempos en el galope a mano derecha.

4. Describe 2 peligros subjetivos relacionados con el caballo en una ruta por el campo y las posibles soluciones.

5. Enumera el material que llevarías en una ruta por el campo de 1 día de duración con parada para la comida preparada por el Centro Hípico (se cuenta con 1 coche de apoyo).